









Área: Matemáticas	Municipio: San Juan de Urabá
Grado: 2	Sede: Principal
Tema: Operaciones con números de 1 y 2 cifras	Docente: José Eleuterio Bonilla
Intencionalidad: Aprestamiento y ejercitación	Asesor Alianza: Juan Felipe Valencia
Duración:	Guía No: 2
Nombre del estudiante:	







Estimado padre de familia: Lea en compañía de su hijo los enunciados para ayudarlo a comprender lo que debe realizar en las actividades de cada clase.







Tiempo aproximado: 4 horas .

Objetivo: Realizar operaciones de suma de números de una cifra.

Actividad 1: Cuente los dibujos y escriba las cantidades en cada cuadrado, luego realice las sumas correspondientes. Observe los ejemplos

 → <input type="text" value="3"/> +	 → <input type="text" value="4"/> +
 → <input type="text" value="2"/>	 → <input type="text" value="1"/>
 → <input type="text" value="4"/>	 → <input type="text" value="1"/>
<hr/>	<hr/>
<input type="text" value="9"/>	<input type="text" value="6"/>

 → <input type="text"/>	 → <input type="text"/>
 → <input type="text"/>	 → <input type="text"/>
 → <input type="text"/>	 → <input type="text"/>
<hr/>	<hr/>
<input type="text"/>	<input type="text"/>

 → <input type="text"/>	 → <input type="text"/>
 → <input type="text"/>	 → <input type="text"/>
 → <input type="text"/>	 → <input type="text"/>
<hr/>	<hr/>
<input type="text"/>	<input type="text"/>

Fuente: adaptado de (webdeldocente.com, 2020)



Actividad 2: Realice las siguientes sumas.

$$\begin{array}{r} 4 \\ + 3 \\ \hline 7 \end{array}$$
$$\begin{array}{r} 3 \\ + 3 \\ \hline \end{array}$$
$$\begin{array}{r} 3 \\ + 4 \\ \hline \end{array}$$
$$\begin{array}{r} 9 \\ + 1 \\ \hline \end{array}$$
$$\begin{array}{r} 5 \\ + 2 \\ \hline \end{array}$$
$$\begin{array}{r} 3 \\ + 2 \\ \hline \end{array}$$
$$\begin{array}{r} 2 \\ + 2 \\ \hline \end{array}$$
$$\begin{array}{r} 4 \\ + 1 \\ \hline \end{array}$$

Actividad 3: Cunte los putos de cada ficha del dominó y realice las sumas correspondientes. Observe el ejemplo.

		Ejemplo
 $\square + \square = \square$	 $\square + \square = \square$	 $4 + 0 = 4$
 $\square + \square = \square$	 $\square + \square = \square$	 $\square + \square = \square$
 $\square + \square = \square$	 $\square + \square = \square$	 $\square + \square = \square$

Fuente: adaptado de (webdeldocente.com, 2020)



 $\square + \square = \square$	 $\square + \square = \square$	 $\square + \square = \square$
 $\square + \square = \square$	 $\square + \square = \square$	 $\square + \square = \square$
 $\square + \square = \square$	 $\square + \square = \square$	 $\square + \square = \square$

Fuente: (webdeldocente.com, 2020)

Cibergrafía

- webdeldocente.com. (17 de 07 de 2020). *Web del Docente*. Obtenido de <https://webdeldocente.com/matematica-primer-grado/adicion/>
- webdeldocente.com. (17 de 06 de 2020). *Web del Docente*. Obtenido de <https://webdeldocente.com/matematica-primer-grado/sustraccion/>

La divulgación de esta guía se hace con fines educativos y se entrega exclusivamente a maestros que participan del programa Alianza por la Educación Con Calidad y Equidad. Así mismo, se autoriza hacer uso solidario del material citando debidamente la fuente y se prohíbe la distribución y el uso parcial o total del contenido para fines comerciales o de desarrollo de programas y proyectos de otras entidades.